









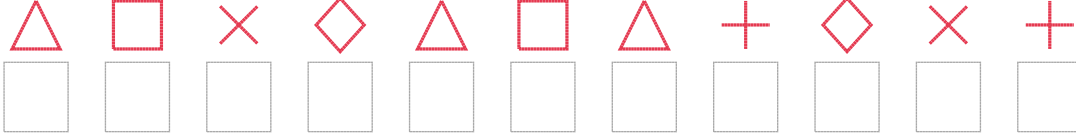


# Şekil Sayı Eşleştirme

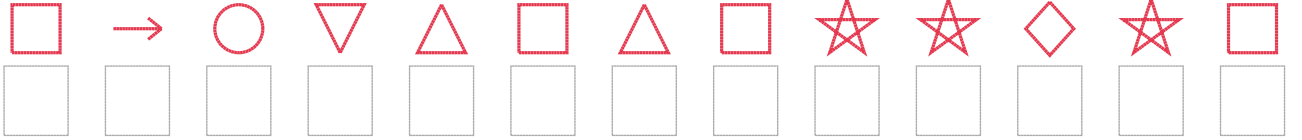
									
= 3	= 9	= 0	= 5	= 1	= 2	= 6	= 8	= 4	= 7

Aşağıdaki uzun şifreleri hatasız çözerek altlarına yazın:

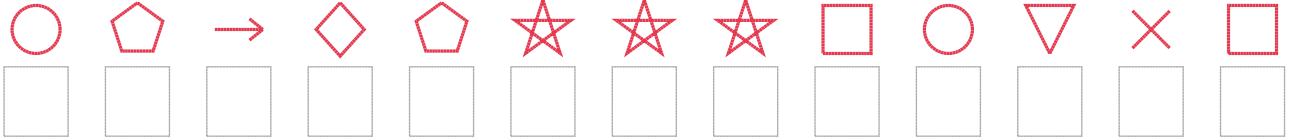
1. Şifre



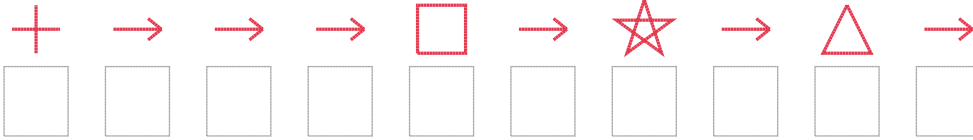
2. Şifre



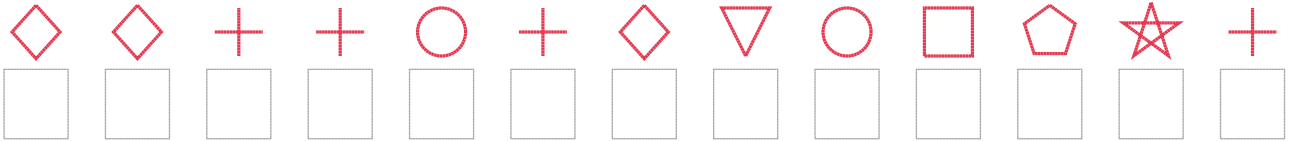
3. Şifre



4. Şifre



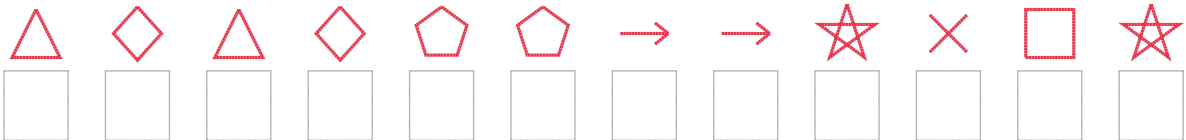
5. Şifre



6. Şifre



7. Şifre



❑ BONUS: 1. ve 3. şifrenin üçüncü rakamının toplamı kaçtır? .....

## Cevap Anahtarı

1. Şifre: 67896761981
2. Şifre: 7205676733937
3. Şifre: 0429433370587
4. Şifre: 1222723262
5. Şifre: 9911019507431
6. Şifre: 26583058181
7. Şifre: 696944223873

□ Bonus Soru Cevabı: 10